


**Задание № 1.** Как называется внутригородское муниципальное образование Красносельского района Санкт-Петербурга, в котором расположено ваше образовательное учреждение: 1. Юго-Запад; 2. Южно-Приморское; 3. Урицк; 4. Константиновское; 5. Сосновая Поляна; 6. Красное Село; 7. Горелово? Выберите правильный ответ и запишите его порядковый номер в бланк ответов.



**Задание № 2.** Рассмотрите фрагмент скриншота карты погодной ситуации в северном полушарии. Сформулируйте ответ, как называется атмосферный вихрь, судя по направлению воздушных потоков в нём:

- 1) бриз; 2) антициклон; 3) муссон; 4) циклон?

Выберите ответ и запишите в бланк ответов.

**Задание № 3.** Прочитайте новостное сообщение портала «Судостроение инфо» и выполните задание. «Контейнеровоз КНР New New Star с экспортными товарами ЛПК РФ (фанера, шпон, пиломатериалы) проследует из Санкт-Петербурга по маршруту через порт выгрузки Александрия и далее в порты выгрузки КНР: Гуанчжоу, Шанхай, Циндао, Тяньцзинь. Контейнеровоз загрузили в два этапа: основная часть – на "Первом контейнерном терминале" в Санкт-Петербурге. Ещё 412 контейнеров были догружены в глубоководном порту Усть-Луга».

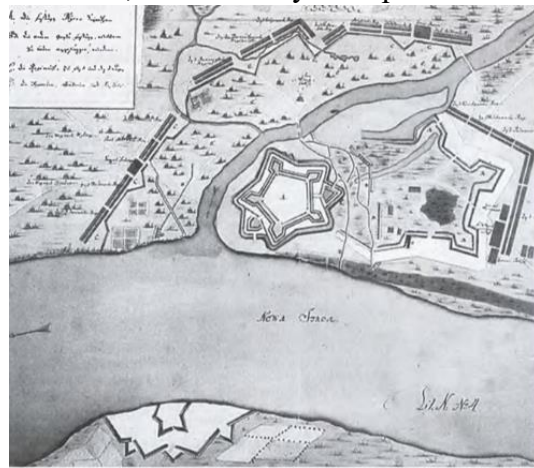
Выберите вариант записи, в котором верно указана последовательность прохождения гидрографических объектов на пути следования контейнеровоза NewNew Star из портов Санкт-Петербурга и Усть-Луга в порты назначения:

**А.** Гренландское море, Северное, Норвежское, Балтийское, пролив Па-де-Кале, Бискайский залив, Атлантический океан, пролив Ла-Манш, пролив Скагеррак, Средиземное, Гибралтарский пролив, Красное море, Аравийское море, Индийский океан, Ормузский пролив, Бенгальский залив, Тихий океан, Восточно-Китайское море, Жёлтое море, Филиппинское море, Японское море;

**Б.** Балтийское море (Финский залив), проливы Каттегат и Скагеррак, Атлантический океан, Северное, Па-де-Кале, Ла-Манш, Гибралтарский пролив, Средиземное, Суэцкий канал, Красное, Баб-эль-Мандебский пролив, Аденский залив, Индийский океан, Аравийское море, Бенгальский залив, Малаккский пролив, Тихий океан, Южно-Китайское море, Восточно-Китайское море, Жёлтое море.

Выберите ответ и запишите его буквенный индекс в бланк ответов.

**Задание № 4.** Месяц спустя после взятия русскими войсками в апреле 1703 г. шведской крепости, на острове Заячий был основан Санкт-Петербург (27 мая 1703 года). По преданию Пётр I учёл расположение разрушенной крепости и велел найти для основания нового города остров ниже по течению, поближе к устью реки Невы. На фотографии – расчищенная в ходе раскопок булыжная



мостовая улицы крупного торгового города, который существовал вокруг крепостных стен. Все находки планируют включить в экспозицию строящегося археологического музейного комплекса.

Рассмотрите изображения и ответьте на вопросы:

**4.-1** О какой крепости идёт речь?

- А) Корела; Б) Ниеншанц;  
В) Копорская; Г) Выборгская;

Бланк заданий 10 класс

- 4.- 2 Как назывался город у стен крепости? А) Ниен; Б) Приозерск; В) Копорье; Г) Выборг;  
4.- 3 Штурмующим русским войскам пришлось преодолевать приток Невы:  
А) Ижора; Б) Тосна; В) Охта; Г) Мурзинка.  
Выберите ответы, запишите их номера в бланк ответов

**Задание № 5.** Путешественник Фёдор Конюхов и пилот Игорь Потапкин совершили рекордный полёт на мотопараплане. Стартовав со льдины 7 июля, они успешно приземлились в финальной точке маршрута 8 июля в 02:42 по московскому времени. Протяжённость беспосадочного перелёта составила около 440 км, на что ушло 10 часов 13 минут. К острову Рудольфа, самому северному острову России путешественников доставил ледокол «50 лет Победы». В поисках подходящей для старта льдины ледокол прошёл ещё дальше на 400 км. Полёт проходил на высоте от 267 до 835 метров. После приземления Ф. Конюхов сообщил: «Посадка успешная в запланированной точке 90° широты». Это был самый продолжительный и дальний полёт в высоких широтах. Рекорд установлен!




Рассмотрите карту рекордного перелёта и ответьте на вопросы:

- 5.-1 Полёт проходил над акваторией \_\_\_\_\_ океана;  
5.-2 Направление полёта было на \_\_ (С, Ю, З, В);  
5.-3 Точка приземления на 90° широты – это  
1) Гринвичский меридиан; 2) Северный полюс;  
3) Северный тропик; 4) Северный полярный круг?  
5.-4 Остров Рудольфа в составе архипелага:  
1) Новая Земля; 2) Северная Земля;  
3) Земля Франца-Иосифа; 4) Шпицберген?

Впишите пропущенное; выберите верный ответ и запишите его номер в бланк ответов.

**Задание № 6.** В этом здании расположен один из известных музеев Петербурга. Для его строительства Преображенский полк подарил городу часть своего плаца. Музей посвящён ратному пути российского военачальника XVIII-XIX вв., который не потерпел ни одного поражения. Лицевой фасад здания украшают две мозаичные картины-панно.

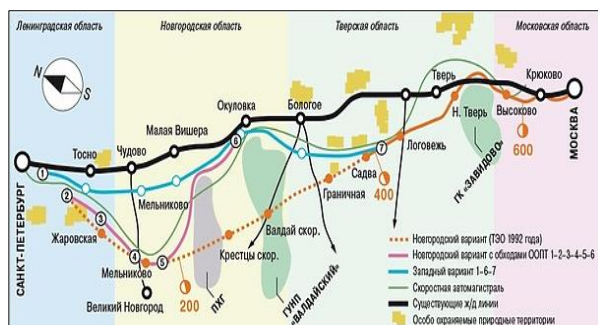


Сюжет панно слева от входа связан с самым тяжёлым, героическим переходом русских войск под руководством военачальника через перевалы высочайшей горной системы Европы во время стратегического манёвра союзников.

Ответьте на вопросы:

- 6.- 1 Чьё имя носит музей:  
1) Петра Багратиона; 2) Михаила Барклая де Толли; 3) Михаила Кутузова; 4) Александра Суворова?  
6.- 2 О какой горной системе Европы идёт речь:  
1) Альпы; 2) Карпаты; 3) Пиренеи; 4) Апеннины?  
6.- 3 Перечислите страны Европы, расположенные в пределах этой горной системы (целиком или частью своей территории)  
Запишите свои ответы в бланк ответов.





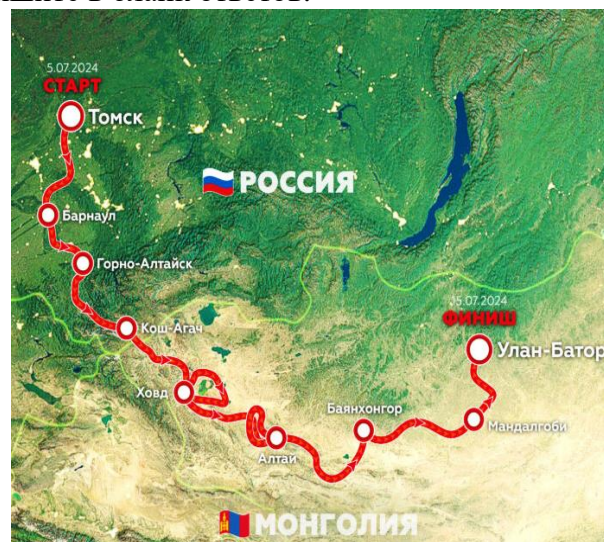
**Задание № 7.** В РЖД сообщили: «В строительстве ВСМ (высокоскоростной магистрали) Москва - Санкт-Петербург участвуют сотни российских предприятий». Как называются формы организации производства, о которых идёт речь в ленте новостей ТАСС в рубрике «Экономика», судя по тексту новостного сообщения: 1) концентрация; 2) специализация; 3) кооперация; 4) комбинирование?

Выберите ответ и запишите его номер в бланк ответов.

**Задание № 8.** Гонки ралли «Шёлковый путь-2024» проходили с 5 по 15 июля. Стартовав в Томске, участники преодолели более 5300 км по России и Монголии и финишировали в Улан-Баторе. В этом году гонка переместилась из Европейской части России в Сибирь и на Алтай, а финишировали гонщики, преодолев 5 этапов протяжённостью 1400 км по Монголии, в её столице. Выполните задания. Выбранные номера правильных ответов запишите в бланк ответов.

**8.- 1** Рассмотрите репортажные фото с этапов и карту ралли, выберите правильные утверждения:

- 1) После тяжелейших горных этапов на Алтае гонщики с удовольствием спокойно передвигались по преимущественно равнинным просторам Монголии;
- 2) Ралли проходило по густонаселённым районам, гонщиков приветствовали местные жители;
- 3) Почти 1400 км этапов по территории Монголии – это пыль и песок, которые проникали повсюду, мотоциклисты увязли в песках, у многих гонщиков глохли двигатели;
- 4) Монголия встретила ралли зелёной травой и красивыми холмами, которые не создавали гонщикам никаких проблем.



**8.-2** Подберите фото в качестве иллюстрации к словам из интервью участников:

- А) «Местность кажется из кабины совершенно безлюдной, для марафона – самые подходящие условия»;
- Б) «В движении из-под колёс взвиваются тучи песка и пыли, попадая в глаза и в нос, дышать очень трудно»;
- В) «Трасса гонок со сложным профилем, машины часто переворачивались»;
- Г) «Наглотавшись песка и пыли, с ностальгией вспоминали щебёнку, грязь, бесчисленные реки и ручейки, леса горных этапов ралли по Алтайскому краю».



1



2



3



4

Бланк заданий 10 класс



**Задание № 9.** Гонка ралли «Шёлковый путь-2024» проходила в июле 2024 года по югу Сибири на территории России и малонаселённым районам Монголии, где семьи скотоводов кочуют от пастбища к пастбищу. Изредка трасса гонок огибала культовые сооружения коренного населения. Какую религию исповедует верующее местное население:

- 1) ислам; 2) христианство;
- 3) буддизм; 4) индуизм?

Выберите правильный ответ и запишите его номер.



**Задание № 10.** Гонка ралли «Шёлковый путь-2024» проходила в июле 2024 года по территории России и Монголии. Изредка гонщики видели традиционные жилища из войлока на деревянном каркасе, которые легко разбирают и вновь собирают на новом месте, куда на свежее пастбище перегоняют скот. Как называется этот тип жилища у народов Центральной Азии:

- 1) яранга; 2) юрта; 3) сакля; 4) чум?

Выберите правильный ответ и запишите его номер.

**Задание № 11.** 29 июля 2024 года между шлюзами № 10 и № 11 Беломорско-Балтийского канала в Республике Карелия смыло временную перемычку-насыпь, установленную на шлюзе для проведения ремонтных работ. Хлынувшая вода затопила посёлок при шлюзе № 11 и садоводство «Балтийский». В Сегежском округе Республики Карелия введен режим ЧС. Транзитное судоходство на канале остановлено после аварии. Беломорканал ввели в эксплуатацию в 1933 году, он соединяет Белое море и Онежское озеро. Общая протяжённость составляет 227 км, из которых 37,1 км — искусственные водные пути, остальное — реки и озёра. На канале построено 19 гидроузлов, шлюзы, плотины, дамбы. Рассмотрите инфографику ТАСС, ответьте на вопросы. Выберите ответы и запишите их номера бланк ответов.



**11.-1** Авария произошла: 1) в верхнем течении; 2) в среднем течении; 3) в нижнем течении; 4) на нескольких участках канала?

**11.-2** В зоне подтопления оказалась территория на 1) правом берегу; 2) левом берегу; 3) обоих берегах?

**11.-3** Первыми на помощь терпящим бедствие людям прибыли спасатели из центров МЧС, базирующихся в:

- 1) Петрозаводске; 2) Надвоицах;
- 3) Сегеже; 4) Беломорске?

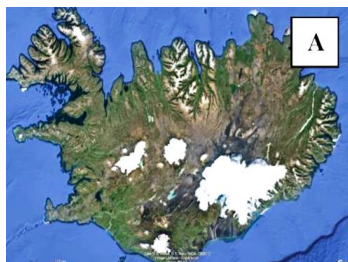
**11.-4** Садоводство и посёлок при шлюзе попали в зону подтопления потому, что расположены:

- 1) в пойме;
- 2) на коренном берегу?

**11.-5** Авария по своему происхождению:

- 1) антропогенная; 2) техногенная;
- 3) экологическая; 4) комплексная.





**Задание № 12.** На фрагментах снимков со спутника в разных масштабах показаны крупные природные объекты (острова, озёра).

**12. - 1** Запишите географические названия объектов **А.** и **Б.** в бланк ответов.

**12. - 2** К каким частям света они относятся:

1) Азия; 2) Европа; 3) Африка; 4) Америка?

Запишите результат в бланк ответов.

**Задание № 13.** Прочитайте новостное сообщение Роскосмоса и выполните задания:

«30 мая 2023 года обновлён рекорд по количеству одновременно работающих на орбите Земли человек. После запуска 30 мая в 4:31 по московскому времени китайского корабля "Шэньчжоу-16" их число достигло 17. Однако, количество землян на орбите будет оставаться рекордным недолго. "Шэньчжоу-16" с экипажем из трёх китайских тайконавтов пристыкуется к китайской орбитальной станции "Тяньгун" и сменит её экипаж из 3-х человек. В это время на МКС (Международной космической станции) работает 11 человек: экипажи российского корабля "Союз МС-23" россияне С. Прокопьев и Д. Петелин, а также астронавт NASA Ф. Рубио, и частной миссии компании Axiom Space АХ-2 (прибыли на Crew Dragon) астронавты С. Боуэн и В. Хобург (США), российский космонавт А. Федяев и астронавт из ОАЭ Султан Аль-Нейади. Частную миссию АХ-2 возглавляет астронавт NASA в отставке П. Уитсон. В АХ-2 прибыл космический турист Д. Шоффнер, а также первые астронавты из Саудовской Аравии — Али аль-Карни и Райана Барнауи. Возвращение экипажа миссии АХ-2, работающего на МКС с 22 мая, на Землю планируется 30 мая. Расстыковка Axiom Space намечена на 18:05 по московскому времени».

Ответьте на вопросы и выполните задания. Для записи ответов используйте формы в бланке ответов:

**13.-1.** Почему присутствие рекордного количества космонавтов на орбите 30.05.2023 названо в сообщении «недолгим»?


Произведите вычисление времени между стартом «Шэньчжоу-16» и расстыковкой Axiom Space, сколько продолжался полёт на околоземной орбите одновременно 17-ти человек. Ответ запишите в часах и минутах.

**13.-2.** В какое местное время (в Москве полдень) руководители агентств и инженерно-технический персонал в центрах управления полётами, на космодромах и в космических агентствах ОАЭ, КНР, США и на Байконуре аплодировали в честь фиксации международного рекорда? Заполните пустые ячейки в частично заполненной таблице в бланке ответов.




**Задание № 14.** Ученики одной петербургской школы, получив задание подготовить творческий проект по географии о транспортной инфраструктуре на территории России, решили, что самый интересный вариант получится, если подготовить его в «Гранд-Макете Россия», получится наглядно и красиво. Ребята разделили между собой обязанности, съездили в «Гранд-Макет Россия», где сделали много удачных фотографий, а подписи к ним отправляли друг другу через мессенджеры. Начав оформлять работу, они обнаружили, что сообщения отдельно от фотографий невозможно распределить как надписи к фото, возникла путаница. Неужели придётся поехать в «Гранд-Макет» ещё раз? Но тогда им не успеть с проектом в срок! Помогите ученикам разобраться, какая подпись относится к какой фотографии. **14-1** Поставьте номера фотографий напротив подписи в таблице в бланке ответов (если по вашему мнению ответов больше, чем один, то записывайте их через запятую; некоторые цифры могут повторяться). **14-2** Назовите 2-3 вида транспорта, которые не попали на фото и не нашли отражение в подготовительных материалах проекта, и запишите их в таблицу в бланке ответов.




Информационно-методический центр  
Красносельского района Санкт-Петербурга  
Всероссийская олимпиада школьников по географии  
Школьный этап 2024-2025 уч. г.  
Бланк заданий 10 класс





		
10	11	12

	<p><b>Задание № 15.</b> В День железнодорожника в августе 2023 года в Петербурге открыли памятник министру правительства Российской империи. Благодаря ему страна получила в рекордно короткие сроки надёжно функционирующую связь между своими Европейской и Азиатской частями. А во время русско-японской войны противник считал именно его более опасным врагом, чем министр обороны России. Будучи потомком древнего княжеского рода, Михаил Иванович блестяще окончил университет и неожиданно для всех уехал из России, 6 лет проработал кочегаром за океаном и в Европе, чтобы «изнутри» процесса изучать технологии строительства объектов и их эксплуатацию. Ответьте на вопросы.</p> <p><b>15. -1</b> Какое министерство возглавлял князь: 1) просвещения; 2) путей сообщения; 3) внутренних дел; 4) иностранных дел?</p> <p><b>15. -2</b> Какую сложнейшую магистраль возвели под его руководством: 1) Байкало-Амурскую; 2) Царскосельскую; 3) КВЖД; 4) Транссиб?</p>
<p>Выберите ответы и запишите их номера в бланк ответов</p>	